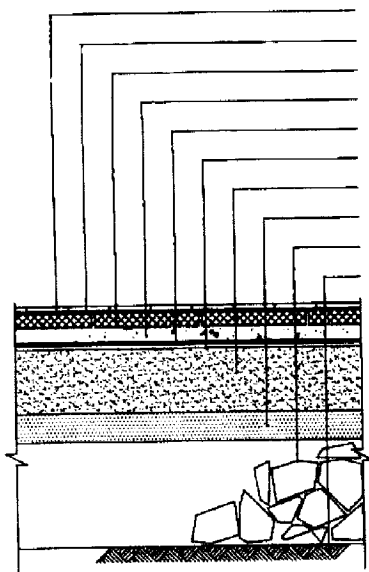
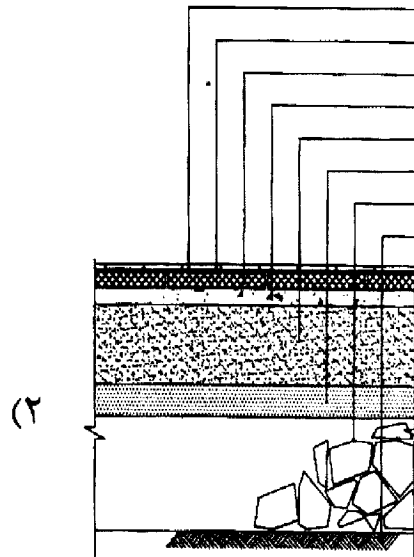


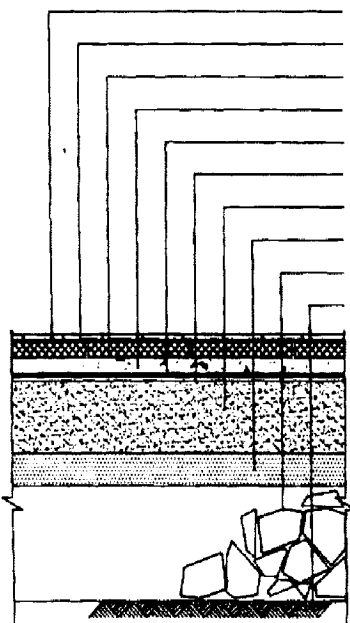
۵۲- جزئیات اجرای صحیح فرش کف با پارکت، کدام است؟



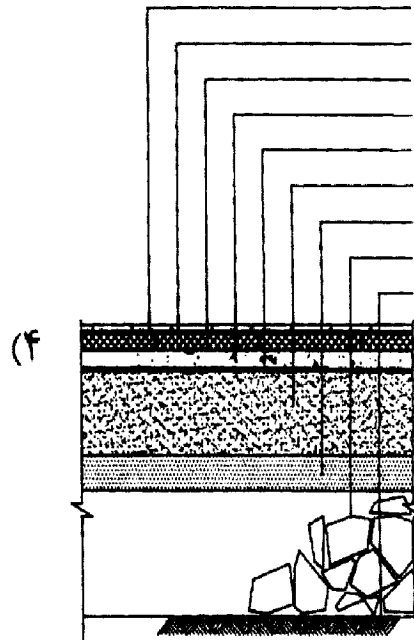
پارکت
چسب مخصوص
آجرسیمانی
علاقت مله سیمان
طبق سه لایه قیر و دو لایه گونی
بستر طبق رطوبتی
بتن چهار ۲۰ کیلوگرم سیمان در متر مکعب
شن
بلوکاز
خاک کوبیده شده ۸۵-۹ درصد



پارکت
چسب مخصوص
آجرسیمانی
علاقت مله سیمان
بتن چهار ۲۰ کیلوگرم سیمان در متر مکعب
شن
بلوکاز
خاک کوبیده شده ۸۵-۹ درصد

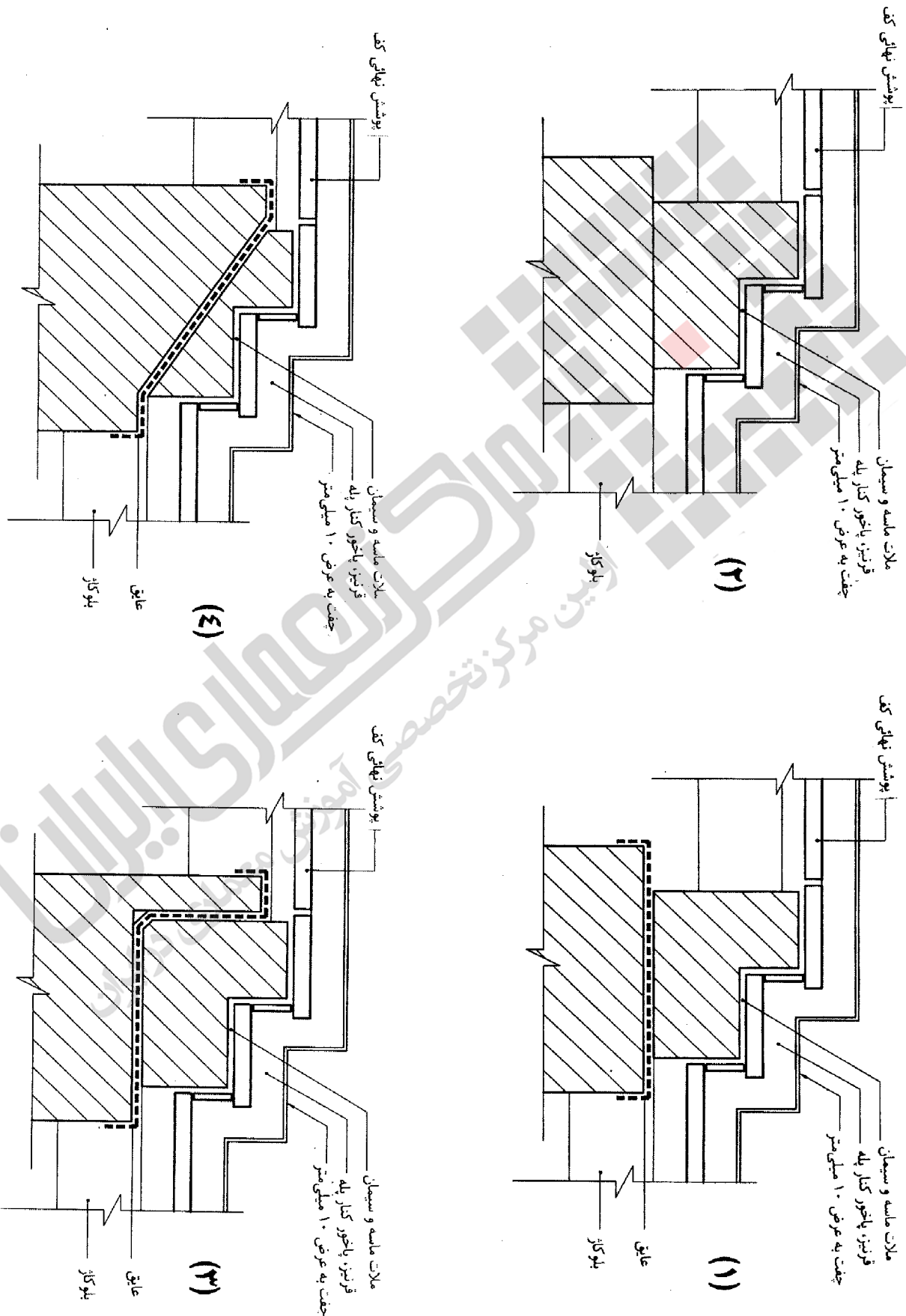


پارکت
چسب مخصوص
آجرسیمانی
علاقت مله سیمان
طبق سه لایه قیر و دو لایه گونی
بستر طبق رطوبتی
بتن چهار ۲۰ کیلوگرم سیمان در متر مکعب
شن
بلوکاز
خاک کوبیده شده ۸۵-۹ درصد

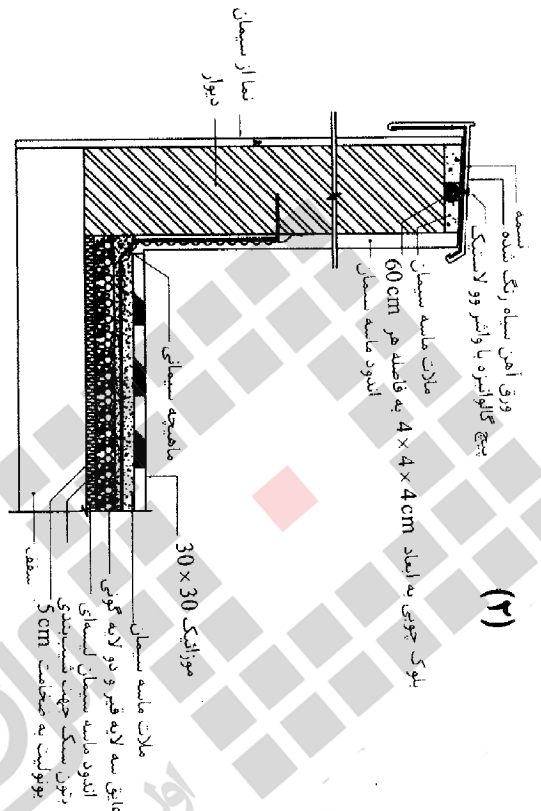


پارکت
چسب مخصوص
آجرسیمانی
علاقت مله سیمان
طبق سه لایه قیر و دو لایه گونی
بتن چهار ۲۰ کیلوگرم سیمان در متر مکعب
شن
بلوکاز
خاک کوبیده شده ۸۵-۹ درصد

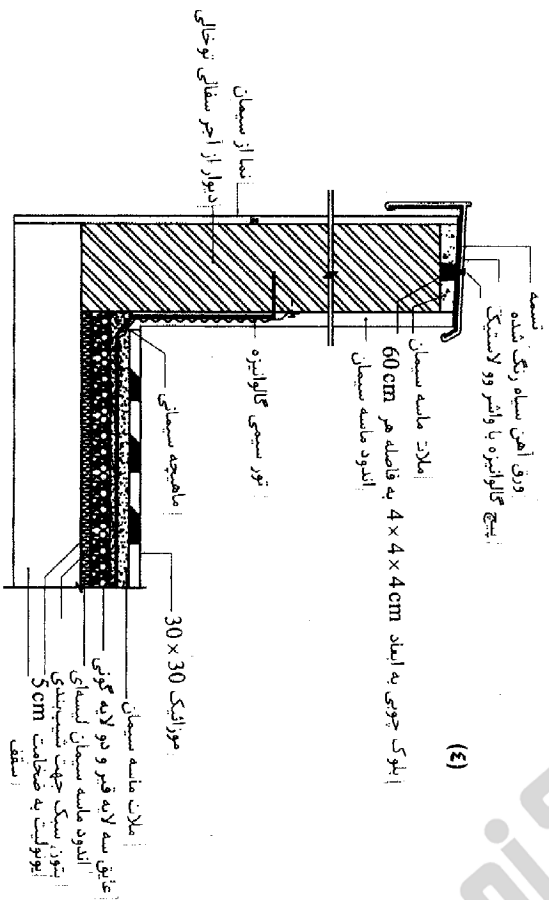
۵۳- جزئیات اجرایی صحیح پله‌ی داخلی در طبقه‌ی همکف، کدام است؟



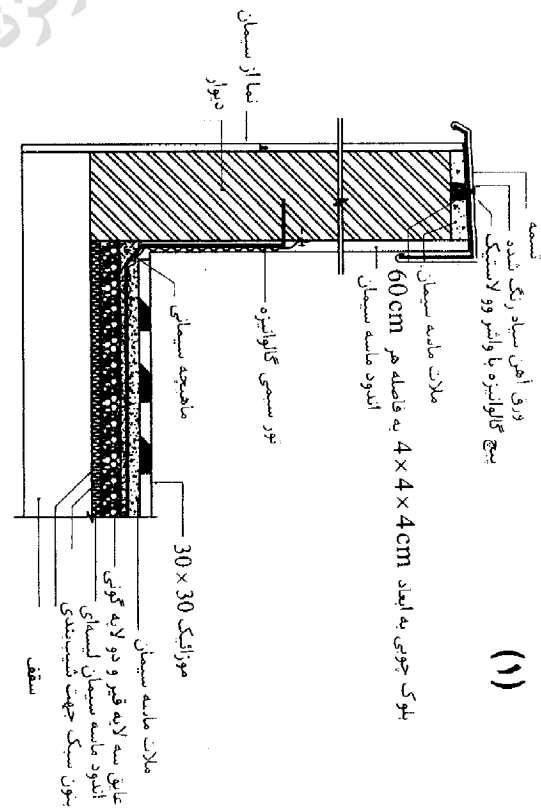
جزئیات اجرایی صحیح، دست‌انداز بام کدام است؟



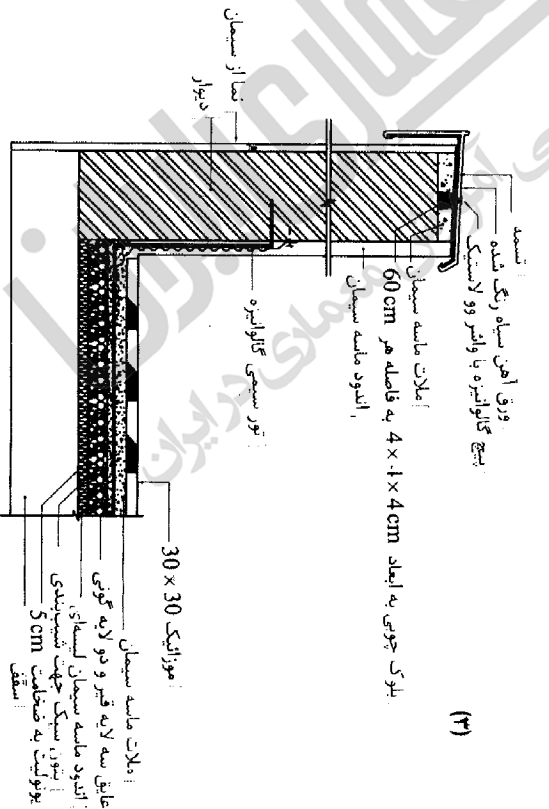
(۲)



(۴)

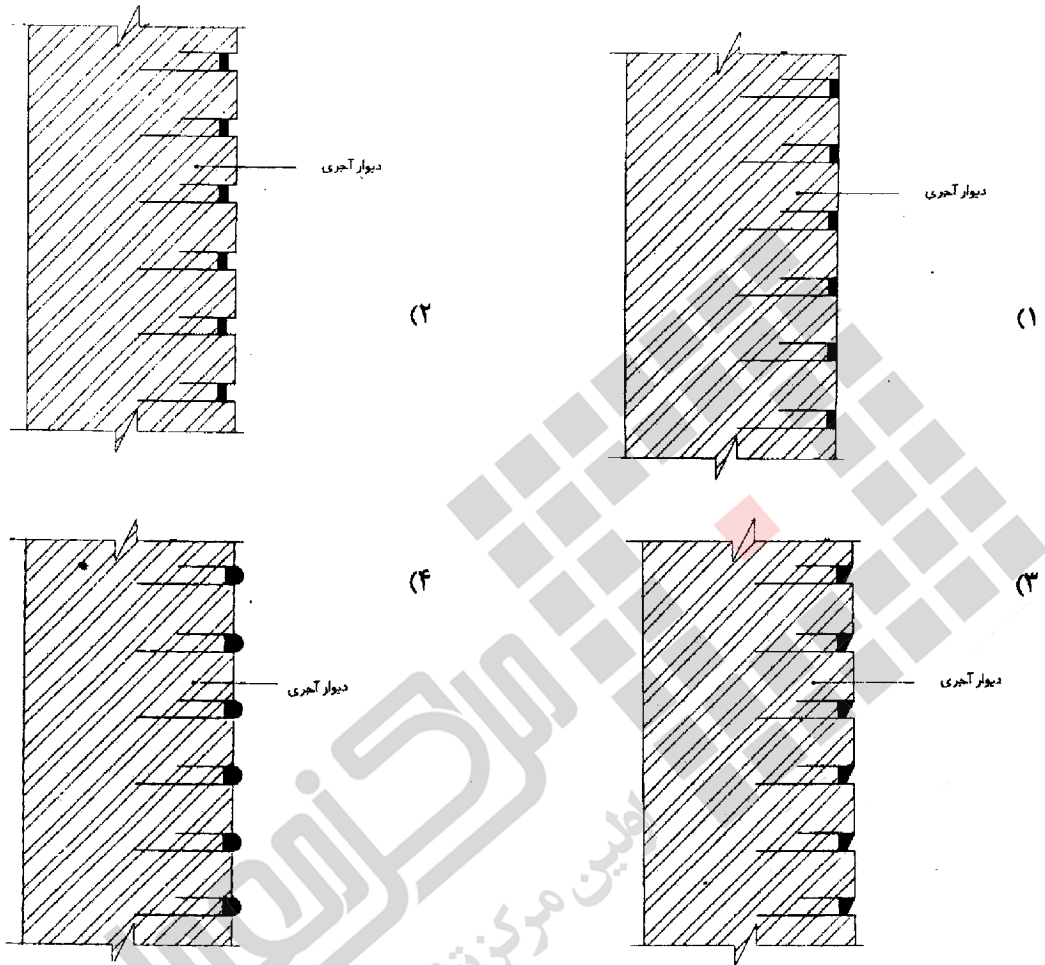


(۱)



(۳)

۵۵- جزئیات اجرایی درزبندی نادرست، کدام است؟



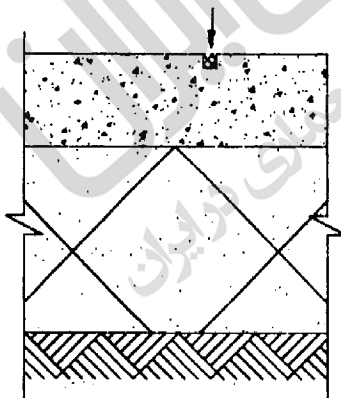
۵۶- نام قسمت مشخص شده بر روی شکل چیست و عرض و عمق آن چند میلی‌متر است؟

(۱) درز انبساط - ۱۰، ۵ تا ۱۰

(۲) درز انقباض - ۱۰، ۵ تا ۱۰

(۳) درز کنترل - ۱۵، ۱۰ تا ۱۵

(۴) شیار دوغاب‌ریزی ۱۵ تا ۱۰، ۱۰



۵۷- اجرای کدام دسته از سیستم‌های جریان ضعیف، در بیمارستان‌ها و درمانگاه‌ها الزامی است؟

(۱) تلفن - اعلام حریق - پیام‌رسانی

(۲) تلفن - زنگ اخبار یا احضار - اعلام حریق - پیام‌رسانی

(۳) تلفن - زنگ اخبار یا احضار - شبکه کامپیوتر - پیام‌رسانی

(۴) تلفن - زنگ اخبار یا احضار - اعلام حریق - شبکه کامپیوتر - پیام‌رسانی

۵۸- بخش‌های مشترک لوله‌کشی گاز واحدهای مسکونی، مانند رایزرها باید از کجا عبور کند؟

(۱) مشاعات (۲) داکت‌ها (۳) داخل واحدهای مسکونی (۴) از هر جا می‌تواند عبور نماید.

۵۹- حداقل قطر سیفون وسایل بهداشتی، «دستشویی، سینک، توالت ایرانی» به ترتیب کدام است؟

(۱) $1\frac{1}{4}$ " ، $1\frac{1}{2}$ " ، ۳" (۲) $1\frac{1}{2}$ " ، $1\frac{1}{4}$ " ، ۳" (۳) ۳" ، $1\frac{1}{2}$ " ، ۳" (۴) $1\frac{1}{4}$ " ، $1\frac{1}{2}$ " ، ۴"

۶۰- حداکثر فاصله‌ی دریچه‌های بازدید در کانال‌های افقی چند متر است، و حداقل ابعاد دهانه بازشو دریچه‌ها چندسانتی‌متر

است؟

(۱) $20 \times 20 - 7$ (۲) $30 \times 30 - 7$ (۳) $30 \times 30 - 10$ (۴) $30 \times 30 - 10$

مرکز تخصصی آموزش معماری در ایران
اولین مرکز تخصصی آموزش معماری در ایران

کلید سوالات رشته مهندسی معماری نظارت آزمون 91/06/30

پاسخ	شماره سوالات
1	31
1	32
4	33
2	34
3	35
1	36
1	37
1	38
3	39
3	40
4	41
1	42
1	43
1	44
2,1	45
4	46
4	47
3	48
4	49
4	50
2	51
2	52
3	53
4	54
4	55
3	56
2	57
1	58
4	59
2	60

پاسخ	شماره سوالات
3	1
2	2
1	3
3	4
4	5
4	6
4	7
1	8
2	9
2	10
4	11
1	12
4	13
1	14
3	15
2	16
2	17
2	18
2	19
حذف	20
1	21
3	22
حذف	23
حذف	24
حذف	25
1	26
3و2	27
حذف	28
1	29
1	30